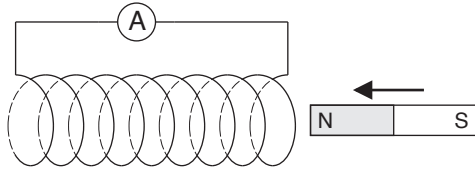


Lenz lag

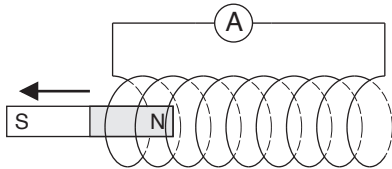
Namn: _____

Bestäm induktionsströmmens riktning i de olika fallen nedan.

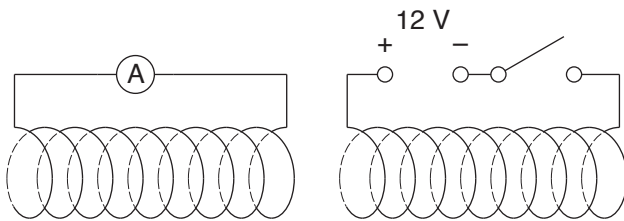
- 1 Permanentmagnets nordände förs in i spole från höger.



- 2 Permanentmagnets nordände dras ut från spole åt vänster.



- 3 Den högra kretsen sluts.



- 4 Den vänstra kretsen bryts (genom att strömbrytaren öppnas).

