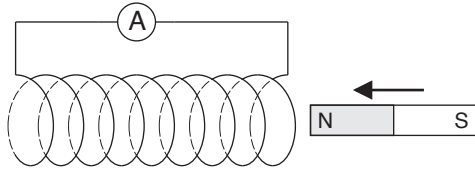


Lenz lag

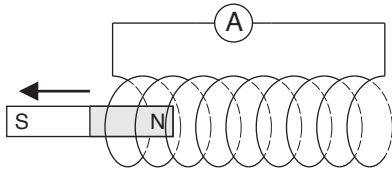
Namn: _____

Bestäm induktionsströmmens riktning i de olika fallen nedan.

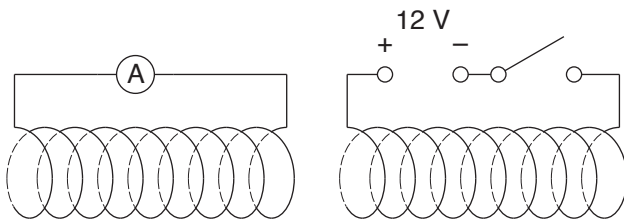
1. Permanentmagnets nordände förs in i spole från höger.



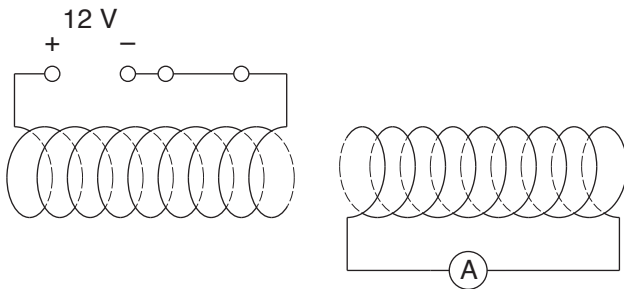
2. Permanentmagnets nordände dras ut från spole åt vänster.



3. Den högra kretsen sluts.

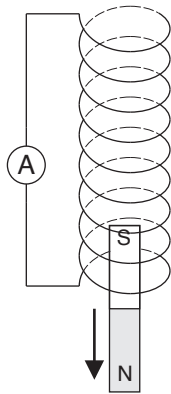


4. Den vänstra kretsen bryts (genom att strömbrytaren öppnas).

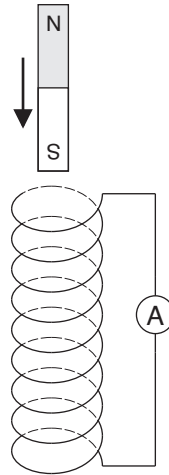


Bestäm induktionsströmmens riktning i de olika fallen nedan.

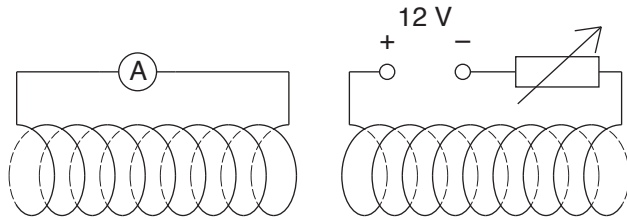
5. Permanentmagnets sydände dras ut från spole nedåt.



6. Permanentmagnets sydände förs ned i spole ovanifrån.



7. Strömmen i högra spolen minskar (genom att vridmotståndet justeras så att resistansen ökar).



8. Den vänstra kretsen sluts.

